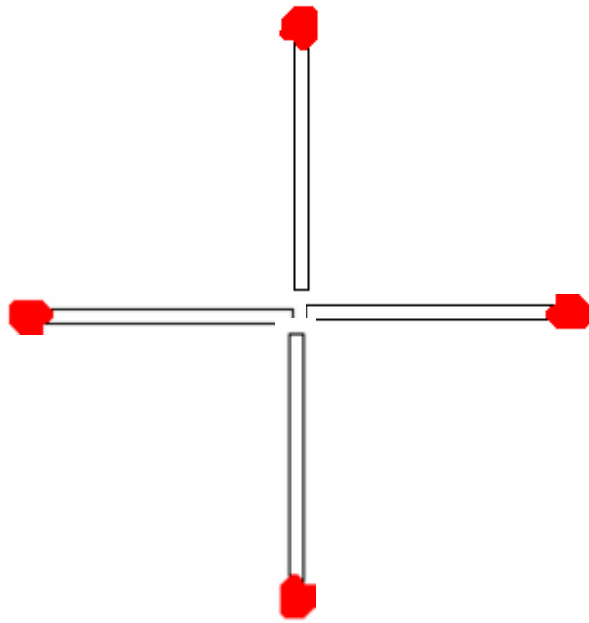
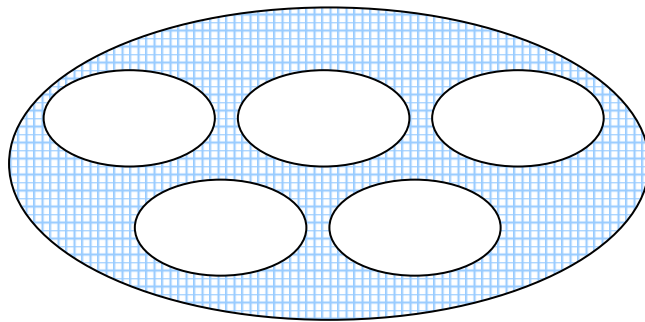


จงสร้างรูปสี่เหลี่ยมจัตุรัส 1 รูป จากไม้จิกซึ่งเรียงอยู่ดังภาพ โดยให้เลื่อนไม้จิกได้เพียง
ก้านเดียว



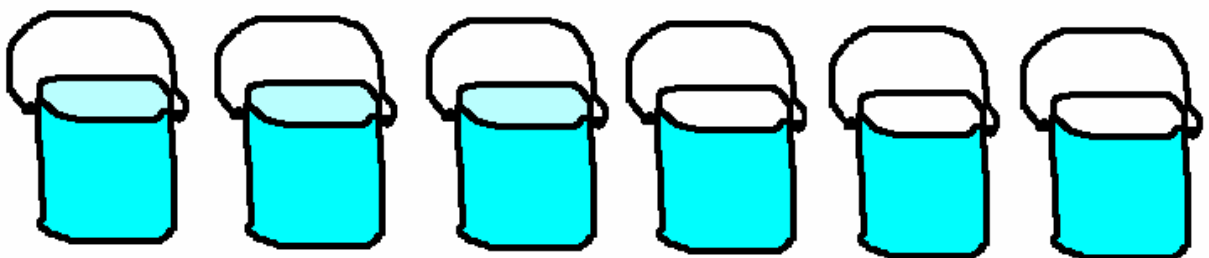
แบ่งไข่

วันนี้คุณแม่คุณแม่ทำไข่ต้ม 5 ฟอง วางไว้ในจาน แล้วทำการแบ่งแจกแก่ลูก ๆ 5 คน ให้ได้รับคบละ 1 ฟอง โดยที่ยังคงมีไข่อีก 1 ฟอง เหลืออยู่ในจานด้วย คุณแม่จะแบ่งอย่างไรเอ่ย



สลับตำแหน่ง

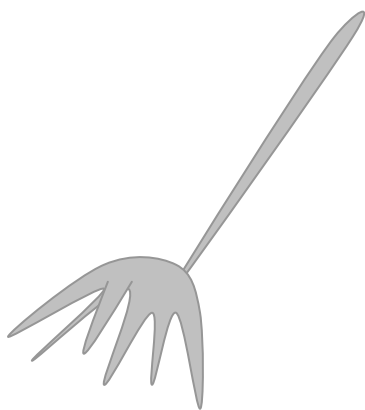
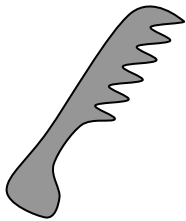

มีถังน้ำอยู่ 6 ถัง 3 ถัง แรกมีน้ำอยู่เกือบเต็ม อีก 3 ถัง เป็นถังเปล่า จะทำอย่างไร จะให้ถังเปล่าสลับกับถังที่มีน้ำ โดยเคลื่อนย้ายได้เพียงใบเดียว



อวัยวะสัมผัส

สิ่งต่อไปนี้อันไหนไม่เข้าพวก ?

ขวด แม่น้ำ ไม้กวาด หวี ต้นไม้ กาน้ำ แวนตา



จาก : สนุกทายสนุกคิด

โดย : พจณี นิราศรพ

เลขสัมพันธ์

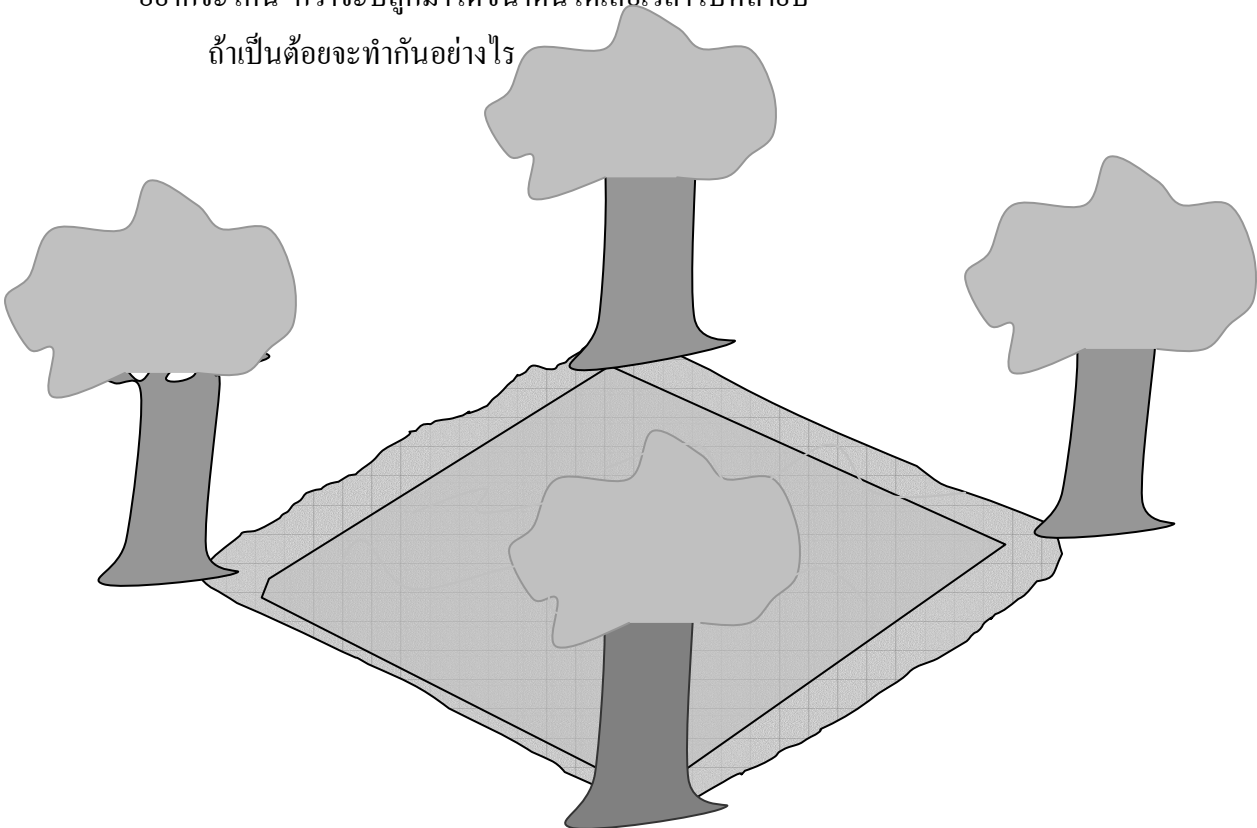
เลขในกรอบสี่เหลี่ยมข้างล่างนี้แต่ละแถวมีความสัมพันธ์กันตามกฎทางคณิตศาสตร์อย่างหนึ่ง ทั้งในแนวนอน แนวตั้ง เลขที่ขาดหายไป (?) ควรจะเป็นเลขอะไร

6	2	4
2	9	0
4	0	4

นักอนุรักษ์ต้นไม้

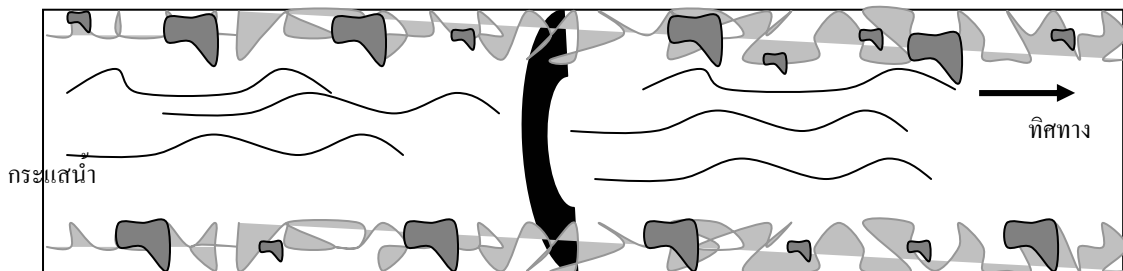
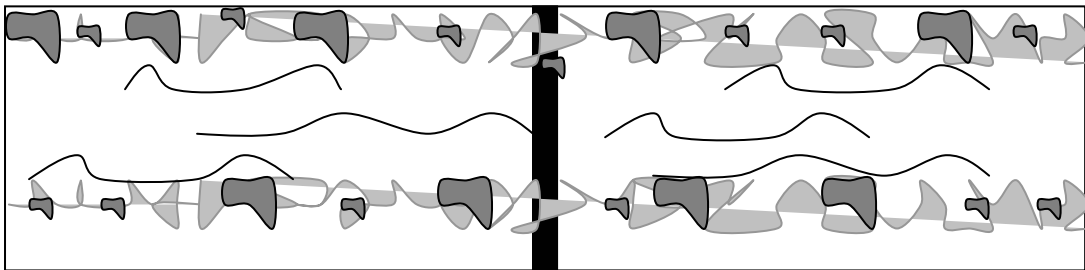
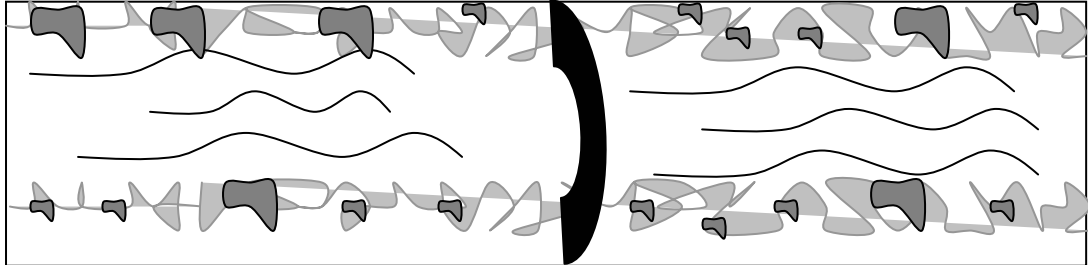
สระน้ำจตุรัสแห่งนี้มีต้นไม้ปลูกประจำทุกมุม มุมละต้น รวมเป็น 4 ต้น ต้องการจะขยายพื้นที่ของสระว่ายน้ำสี่เหลี่ยมจตุรัสนี้ให้เพิ่มเป็นสองเท่า แต่ติดขัดอยู่ตรงที่เสียดายต้นไม้ไม่อยากจะโค่น กว่าจะปลูกมาโตขนาดนี้ได้เสียเวลาไปหลายปี

ถ้าเป็นตัวยจะทำกันอย่างไร



สร้างเขื่อน

ลักษณะเขื่อนไหนแข็งแรงที่สุด ทำไม?



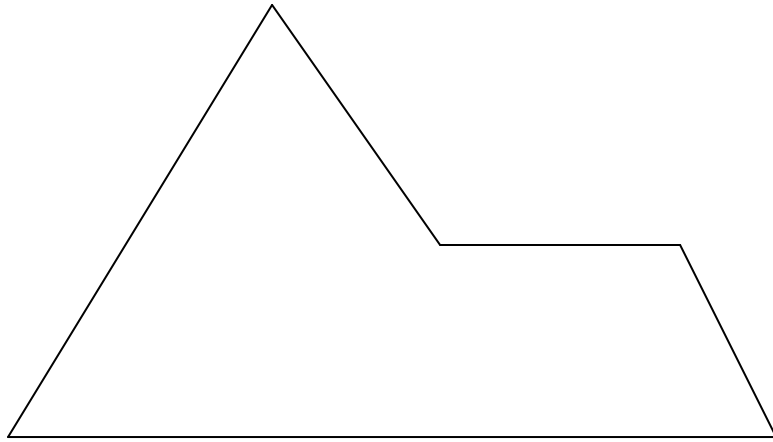
จาก : สนุกทายสนุกคิด

โดย : พจณี นิราศรพ

จาก : สนุกทาย สนุกคิด โดย : พจณี นิราศรพ

จำแลงภาพ

รูปเรขาคณิตที่เห็นข้างล่างนี้ มีชื่อเรียกว่า “สฟิงซ์” งานของคุณคือ จัดการแบ่งพื้นที่รูปนี้ออกเป็น 4 ส่วนเท่า ๆ กัน โดยที่แต่ละส่วนจะมีลักษณะเหมือนรูปเดิมคือ “สฟิงซ์” นี่ทุกประการ แดมด้านที่สมนัยหรือสอดคล้องกันก็มีขนาดเท่ากันด้วยทุกรูป



จาก : สนุกทายสนุกคิด

โดย : พจณี นิราศรพ